







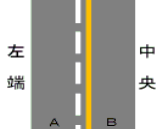





模擬テスト6番ヒント集

1. けん引免許が無くてもけん引できるのは、故障車と・・・？ P 1 3 0
2. 片側2車線の道路では原則として、どちらの車線を走行しますか？ P 5 7
3. 荷台に人を乗せてもよい場合は？ P 2 7 2
4. 空走距離が長くなる原因は？ P 8 4
5. 光化学スモッグが発生するおそれのある時は、運転は控えた方がよいですか？ P 1 9 9
6. 踏切とその端から前後10メートル以内は何が禁止されていますか？ P 2 6 0
7. 見通しの悪い交差点や勾配の急な下り坂では、〇〇しなければならない。 P 8 8
8. タイヤをロックさせると制動距離は長くなりますか？それとも短くなりますか？ P 1 9 4
9. 二輪車のブレーキのかけ方は？ P 8 7
10. 横断歩道とその端から前後5メートル以内は何が禁止されていますか？ P 2 6 0
11. 右折、転回、停止、それぞれの合図の時期は？ P 1 0 4
12.  この標示板の意味は？ P 3 0
13. 大型二輪免許で運転できる車の種類は？ P 1 2 7
14. 制動距離とは、どんな距離ですか？ P 8 4
15.   これらの標識のある交差点での原付の右折方法は？ P 6 5・6 6
16. 夜間の駐停車で、非常点滅表示灯などをつけなくてもよい場合は？ P 2 1 3
17.  これらの路側帯で駐停車や車の通行はしてもよいですか？ P 4 6
18. 駐車する場合、車の右側に何メートル以上の余地をあげなければなりませんか？ P 2 6 2
19. 車から降りる時は、どのように注意して降りますか？ P 1 0 2
20. 自動二輪の二人乗りの条件は？ P 2 7 4
21.  この標識の意味は？ P 6 7
22. ブレーキの踏みごたえが柔らかく感じる時は、どのような原因が考えられますか？ P 2 5 0
23. 他の交通に接近を知らせるため、前照灯を上向きに切り替えるのはどのような場所ですか？ P 2 1 4
24. 二輪車に積むことのできる積載物の幅の制限は？ P 2 7 3
25. エアバッグ装備車の助手席にやむを得ずチャイルドシートを使用する時は、座席はできるだけ前？後ろ？ P 1 5
26. A T二輪車でスロットルを戻すと車輪にエンジンの力が伝わらなくなり、〇〇を失う。 P 1 4 8
27. 車で歩行者用道路を通行できる条件は？ P 6 0
28. 横断歩道のない交差点に歩行者がいる場合、どのように対応しますか？ P 9 4
29. ハイドロプレーニング現象とは、どのような現象ですか？ P 3 2 0
30.  この標識の意味は？ P 6 7

31.  この標示の意味は？ P 4 6
32. 夜間、自車のライトと対向車のライトでライトの中央付近の歩行者等が見えなくなる現象とは？ P 2 1 1
33.  AからBへの進路変更は違反？ P 1 0 8
34.  この標識の意味は？ P 4 0
35. 対向車と正面衝突の恐れがある時の対処方法は？ P 2 2 4
36. 二輪車を選ぶ時は、どのようなことに気をつけますか？ P 2 0 3
37.  この標示の意味は？ P 4 9
38. 高速自動車国道における大型自動二輪車の最高速度は？ P 3 0 5
39. 荷物を載せる場合の悪い乗せ方とは？ P 2 7 2
40. 幅の広い路側帯で車を止める時、車の左側に何m以上の余地を空けなければなりませんか？ P 2 6 3
41.  この手信号は、対面する交通に対して何色を示していますか？ P 2 8

42.  これらの標識の意味は？ P 3 6
43.  この標識の意味は？ P 3 7
44.  この標識の意味は？ P 3 8
45.  この標識の意味は？ P 4 0
46. ブレーキを数回に分けて踏むポンピングブレーキは、どのような効果がありますか？ P 8 6
47. 高齢者等のそばを通る時は、徐行又は・・・？ P 9 6
48.  この標識の意味は？
歩行者は通行できますか？ P 3 5
49.  この標識の意味は？ P 3 5
50.  この標識の意味は？ P 3 9
51. 走行中にエンジンの回転数が上がったあと、故障等により下がらなくなった時はどのように対処しますか？ P 2 2 3
52. 高速道路では、例外としてどのような場合なら駐停車できますか？ P 3 0 9
53. 自動車専用道路での標識や標示による速度指定がない場合の最高速度は？ P 3 0 5
54. 長い下り坂では主にエンジンブレーキとフットブレーキ、どちらを使いますか？ P 1 9 6
55. 交通整理の行われている交差点を右左折する時でも車の速度は・・・？ P 6 4・6 5
56. 二輪車でカーブを通行する時は、手前の直線部分で十分速度を・・・？ P 2 0 4
57. 駐停車禁止場所で人の乗り降りのための停止はしてもよいですか？ P 2 5 9
58. 自動二輪車の高速道路での二人乗りの条件は？ P 3 0 8
59. 大型特殊免許で運転できる車の種類は？ P 1 2 7
60. 同じ場所に引き続き駐車する場合、何時間まで駐車できますか？ P 2 6 4
61. ぬかるみや砂利道などでの走行方法は？ P 2 1 9
62. 高速自動車国道を通行できない車は？ P 3 0 4
63. 空荷の時は荷物を積んでいるときに比べ、制動距離は長くなる？短くなる？ P 1 9 3
64.  この標識の意味は？ P 5 5
65. 免許停止処分中に運転すると、〇〇〇〇の違反になる。 P 1 2 6
66. 高速道路で故障等によりやむを得ず駐停車する場合は、どこに駐停車しますか？ P 3 1 0
67. 自動車は使用の本拠位置から何キロメートル以内に保管場所を確保しなければなりませんか？ P 2 6 8
68. ABSを有効に作動させるためには、ブレーキはどのように踏みますか？ P 8 6
69.  図のような黄色の灯火の点滅信号はどのように通過しますか？一時停止の義務はありますか？ P 2 6
70. 雪道では、どこを走れば安全ですか？ P 2 2 0
71. 警音器を標識で使用することが定められている場合以外で鳴らすことができるのはどんな場合ですか？ P 1 0 6
72. 初心者マーク等の表示自動車に対してやってはいけない事とは？ P 9 8
73. 二輪車の正しい乗車姿勢は？ P 2 0 2
74. 右側通行の標示がある場合、右側にはみ出した方がよいですか？それともはみ出さずに通行した方がよいですか？ P 5 6
75. クラッチを切ると、車は走り続けますか？それともすぐに止まりますか？ P 1 9 2
76. 自動車の燃料消費量は、速度が低すぎても高すぎても多くなります。また、空ぶかし等を行うと余分な燃料を消費します。
77. 車に働く遠心力は、どのようなことが原因で大きくなりますか？ P 1 9 5
78. 混雑していて優先通行帯から出られなくなる恐れがある時でも、優先通行帯に入ることができますか？ P 8 0
79. 交通事故が起きた時、救護や報告等は責任の程度が重い運転者だけですか？ P 2 8 0・2 8 1
80. 車を止める時は、ブレーキによる〇〇〇〇を利用する。 P 1 9 2
81. AT二輪車に無段変速装置が採用されている場合、エンジンの回転数が低い時は車輪にエンジンの力は伝わりやすいですか？それとも伝わりにくいですか？ P 1 4 8
82.  図のように黄線で区画されている場所では、右左折の場合進路を変えてもいいですか？ P 1 0 8