





仮免前効果測定54「虎の巻」(順番は異なります)

- 1  上の標識と下の標識をひとつずつ読み取りましょう。
つなげて考える必要はありません。 P36
- 2  進入禁止の標識です。何が進入してはいけないのでしょうか？ P35
- 3 追い越しは、右から？ 左から？ P118
- 4  右側にはみだしてもよいのですが、その際の注意点は？ P56 のイラストを見て考えましょう。
- 5 トンネルは追い越し禁止ですが、例外としてできる場合もあります。どんな場合ならできるのでしょうか？ P116⑤
- 6 P86 の 「四輪車のブレーキのかけ方①」を覚えておきましょう。
- 7  一方通行？ 左折可？ 区別をしっかりと！！ P37・P44
- 8  これは何でしょう？ P39・P55
- 9 P123「障害物があるときの避譲」を覚えましょう！！
- 10  停止禁止・安全地帯・立入禁止。この3つはしっかり区別して覚えましょう。 P59・P61
(黄色の枠)
- 11 歩行者用道路を通行できるのはどんな車？ P60
- 12 歩行者のそばを通行するときは・・・安全な間隔 か 徐行 をしなければならない。
通行に支障のある人だったら・・・〇〇〇〇 か 〇〇 をしなければならない。 P96
- 13  通行止めの標識です。何が通行してはいけないのですか？ P35
- 14 道路の右側にはみ出していいときがあります。その場合、どれくらいならはみ出してよいのですか？ P56
- 15 交差点を右折するときは、あらかじめ・・・ 大切な文章です。暗記するくらい読みましょう。 P64・P65
- 16 P88 の徐行すべき場所を見てください。その上で、優先道路ってなんですか？ P69
- 17 普通自動車と大型自動車の区別。どこまでが普通自動車なのでしょう？ P129
- 18 安全地帯のそばを通るときは・・・しなければならない。 P92
- 19  一般の車は、この場所を通行できますか？
通行できるのはどんなときですか？ P79
- 20 普通免許で運転できる車の種類は？ 二輪免許で運転できる車の種類は？ P127
- 21 赤の点滅信号の意味は？ 黄色の点滅信号の意味は？ P26
- 22  この標識の意味は？ 通行できるものは？ P37
- 23 オートマチック車を駐車するときの手順は？ P147
- 24 四輪車の正しい運転姿勢とは？ P19
- 25 車両通行帯のある道路では、どの通行帯を選んで通行したらよいか？ P57

26 進行方向別通行区分の意味は？ 原則だけでなく例外も覚えましょう。 P67・P108


27 交差点の近く、または交差点の中にいるとき、緊急自動車がきたら？ P78

28 自動車の法定最高速度は？ P83

29  この標識があったら必ず・・・ P106


30 空走距離とは？ 制動距離とは？ 停止距離とは？ P84

31 右折、左折、転回の合図は・・・m。 進路変更の合図は・・・秒。 徐行、停止、後退の合図は・・・ P104

32  この標識があったら・・・
・ 原則として・・・できない。
・ 例外として・・・できる。 P60

33 黄色の線で区画されている車両通行帯の黄線の意味は？ 例外は？ P108

34 踏切の警報機が鳴り出したら？ 行きますか？ P73

35  どんな意味が？ P40


36 横断歩道の手前30mでは・・・してはならない。 P94

37 同乗者の安全確保。 誰の責任か？ P13

38 進行方向別通行区分の標識ってどんなのでしたっけ？ そしてその意味は？ P67

39 優先道路に出て行くとき。 道幅の広い道路に出て行くとき。 どのように出て行くか？ P69

40 一般の車、教習車などは、バス優先通行帯を通行できますか？ P80

41  この場所を、通行できる場合とできない場合の区別。 P80


42 停止距離がのびるのはどんなときですか？ 2倍にのびるのはどんなときですか？ P84



43 仮免許で運転練習するための条件は？ P131

44 安全地帯、停止禁止、立入禁止。見分けられるようになりましたか？ P46・P50

45 横断歩道や自転車横断帯。横断しようとしている人が、いる場合
いない場合
いるかないかわからない場合 } ? P93、95

46 横断歩道のないところで、横断している歩行者がいたら・・・？ P94

47  正面から見たら？
横から見たら？ P28

48   なんとなく似ていますが、意味は全然違います。
違いがわかるようにしておきましょう。 P40・P35

49 警察官が手信号で赤を示しています。どこで止まったらよいでしょう。 P29

50 車両通行帯のある道路に、黄色と白の線が両方ひいてある場合、どんな意味があるのでしょうか。 P108

このプリントの内容がしっかりと理解できれば、仮免許前効果測定54で合格できます！
がんばって勉強して次で合格しましょう！！
☆☆☆☆ その他のヒント集はこちら <http://ceico.gozaru.jp/> ☆☆☆☆☆